






Lipește astfel încât rezultatul să fie corect!



Pe câmp sunt cinci iepuri. Motanul încălțat a prins doi iepuri și i-a băgat în tolba sa. Lipește cifra corespunzătoare numărului de iepuri care au rămas.



Pe o masă sunt șase mere. Prințesa a luat de pe masă două mere. Lipește cifra corespunzătoare numărului de mere care au rămas pe masă.




Din cele opt ciuperci găsite, ariciul a cules una. Lipește cifra corespunzătoare numărului de ciuperci rămase.



În măr sunt zece mere.
Patru din ele cad în coș.
Câte mere rămân în măr?
Lipește relația matematică
corespunzătoare!



Șapte furnicuțe harnice strâng provizii.
Cinci dintre ele intră în mușuroi.
Câte furnicuțe rămân să strângă provizii pe lângă mușuroi?
Lipește relația matematică corespunzătoare!





3 4



10 - 4 = 6



7 - 5 = 2

